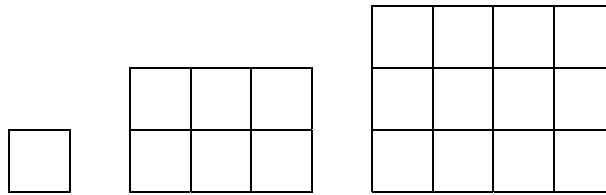


Mit Würfeln bauen und Zahlenfolgen entdecken

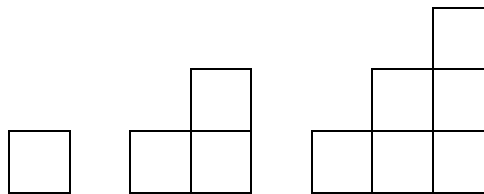
1. «Fastquadrate»



Höhe	1	2	3	4	5	6	7	8	9	10				20
Anzahl														

- a) Baue weitere Figuren und fülle die Tabelle aus.
 b) Wie wächst die Anzahl Würfel? Beschreibe deine Beobachtungen.

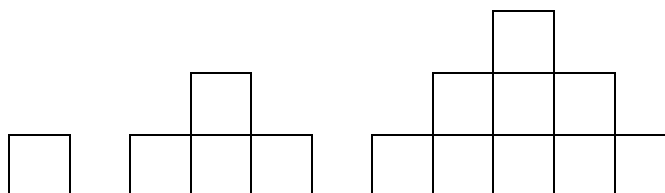
2. Treppen



Höhe	1	2	3	4	5	6	7	8	9	10				20
Anzahl														

- a) Baue weitere Figuren und fülle die Tabelle aus.
 b) Wie wächst die Anzahl Würfel? Beschreibe deine Beobachtungen.

3. Doppeltreppen



Höhe	1	2	3	4	5	6	7	8	9	10				20
Anzahl														

- a) Baue weitere Figuren und fülle die Tabelle aus.
 b) Wie wächst die Anzahl Würfel? Beschreibe deine Beobachtungen.