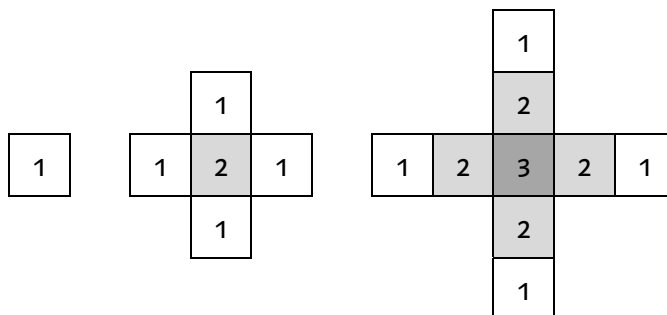


Mit Würfeln bauen und Zahlenfolgen beschreiben

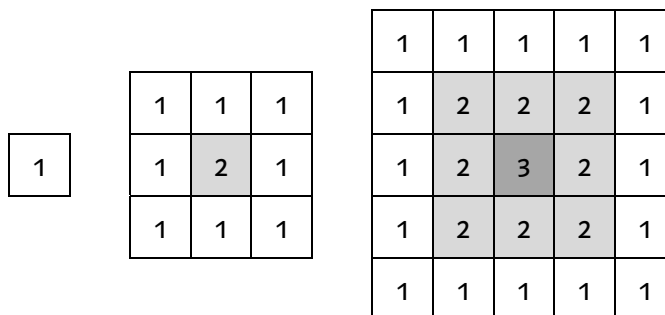
1. Sich kreuzende Doppeltreppen



Höhe	1	2	3	4	5	6	7	8	9	10				20
Anzahl														

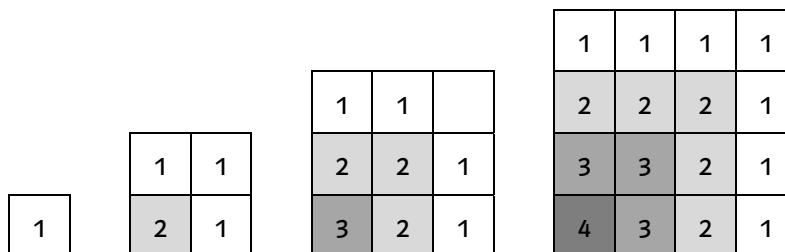
- a) Baue weitere sich kreuzende Doppeltreppen und fülle die Tabelle aus.
b) Wie wächst die Anzahl Würfel? Beschreibe deine Beobachtungen.

2. Pyramiden



Höhe	1	2	3	4	5	6	7	8	9	10				20
Anzahl														

- a) Baue weitere Pyramiden und fülle die Tabelle aus.
b) Wie wächst die Anzahl Würfel? Beschreibe deine Beobachtungen.



Höhe	1	2	3	4	5	6	7	8	9	10				20
Anzahl														

- c) Baue weitere Pyramiden und fülle die Tabelle aus.
d) Wie wächst die Anzahl Würfel? Beschreibe deine Beobachtungen.